

# 第一部分 语言表达能力测试

(50 题, 每题 2 分, 满分 100 分, 考试时间 45 分钟)

## 一、选择题

- 下列加点字的读音与前面所给读音全部相同的一组是
  - bì 包庇 奴婢 媲美 筚路蓝缕 刚愎自用
  - guī 归咎 瑰宝 皈依 龟鹤延年 岿然不动
  - qī 期求 膝盖 漆黑 无处栖身 休戚相关
  - shì 嗜好 谥号 吞噬 恃才傲物 舐犊情深
- 下面各组词语中, 没有错别字的一组是
  - 汗流浹背 胸无成府 贻笑大方 绵里藏针
  - 望风披靡 承上起下 敬谢不敏 名门望族
  - 自暴自弃 励精图治 食不果腹 风光不再
  - 殚精竭虑 危言耸听 心力交瘁 既往开来
- 下列加点字的释义全都正确的一组是
  - 怙恶不悛(悔改) 难以释怀(消除) 安土重迁(重视)
  - 过犹不及(如同) 正襟危坐(端正) 穷则思变(贫穷)
  - 寿终正寝(居室) 共商国是(大计) 义无反顾(义气)
  - 溃不成军(散乱) 曲突徙薪(烟囱) 如汤沃雪(融化)
- 下列句子中, 没有语病的一句是
  - 对于一个初出茅庐的青年, 面对这样复杂的任务, 心情是可想而知的。
  - 全厂职工齐心协力, 一年下来获利近十万多元。
  - 在温泉里洗澡, 对促进新陈代谢, 增加免疫功能, 以及神经官能症有明显疗效。
  - 如何迅速提高学生的语言表达能力, 这是语文教师特别关心的一个问题。
- 下列各句中, 语义明确、没有歧义的一句是
  - 我认为不适当地布置作业, 对学生的能力培养没有好处。
  - 他打电话来说他要学习文件。
  - 这是一部长篇小说, 前前后后写了二十年。
  - 河南是小麦、棉花以及玉米、高粱等农作物的重要产区之一。
- 下列各句中, 加点的成语使用恰当的一句是
  - 解决中小企业经营困难是目前的当务之急, 要建立长效机制, 促进中小企业创新升级。
  - 很多教师和学生都有这样的经验和体会, 在考试前一定要保持轻松的心态, 采用疲劳战术和题海战术只能事倍功半。
  - 在伊拉克战争期间, 一些女记者直接到前线采访, 其冒险程度无异于火中取栗。
  - 在昨晚进行的全国男篮甲 A 联赛中, 作客沈阳的江苏南钢队兵不血刃, 以 64:109

的大比分裁倒在辽宁猎人队手上。

7. 对下列句子修辞手法和表达作用的分析不当的一项是

- A. 问君能有几多愁，恰似一江春水向东流。（李煜《虞美人》）  
——以春水喻愁，使抽象的愁绪有了载体，显示出愁思的无边无际、无穷无尽。
- B. 遥岑远目，献愁供恨，玉簪螺髻。（辛弃疾《水龙吟·登建康赏心亭》）  
——用比喻和拟人的手法，赋予形态各异的山峰以人的感情，移情于物，抒发了作者报国无门的悲愤。
- C. 是处红衰翠减，苒苒物华休。（柳永《八声甘州》）  
——运用夸张手法，写出清秋时节万物凋零、一片萧飒的景象，烘托了词人浓重的羁旅行役之苦。
- D. 满地黄花堆积，憔悴损，如今有谁堪摘。（李清照《声声慢》）  
——运用拟人手法，以黄花自喻，表达了词人昔盛今衰、孤苦无依的绝望心情。

8. 下列作品、作家、国别（或朝代）对应全都正确的一项是

- A. 《离骚》——屈原——春秋  
《高老头》——巴尔扎克——法国
- B. 《文心雕龙》——刘勰——南朝  
《草叶集》——惠特曼——英国
- C. 《世说新语》——刘义庆——南朝  
《复活》——阿·托尔斯泰——俄国
- D. 《人间词话》——王国维——近代  
《浮士德》——歌德——德国

9. 下列有关文史常识的表述，不正确的一项是

- A. 《水经注》、《梦溪笔谈》、《徐霞客游记》分别是郦道元、沈括、徐宏祖的著作，都有较高的文学价值。
- B. 《老残游记》，作者刘鹗。鲁迅称《老残游记》为晚清四大谴责小说之一。
- C. 古书可分为“经”“史”“子”“集”四大类，《诗经》、《三国志》、《吕氏春秋》、《杜工部集》都属于“集”部。
- D. 《左传》是我国第一部叙事详尽完备的编年体史书，它记载了春秋时期各诸侯国多方面的历史事实。

10. 对比下列诗句，从诗句句式组成的特点看，不同于其他三项的一项是

- A. 杨柳岸，晓风残月。
- B. 鸡声茅店月，人迹板桥霜。
- C. 榆柳阴后檐，桃李罗堂前。
- D. 枯藤老树昏鸦，小桥流水人家。

11. 良好的习惯是一个人一生的宝贵财富。有人指出：行为从小事抓起，品德从孝心抓起，文明从说话抓起，学习从小处抓起。下列名言中，与此所反映的哲理相似的是

- ①奢靡之始，危亡之渐
- ②仁者见仁，智者见智



18. 在下面一段文字的横线处，依次填入最恰当的标点符号。

不被制约的权力将会产生腐败现象，这已是无须证明的结论了\_\_\_\_\_但是，谁来制约\_\_\_\_\_谁来监督\_\_\_\_\_谁能制约\_\_\_\_\_谁能监督\_\_\_\_\_尚有一系列的疑问。

- A. 。 ， ? ， ? ……
- B. ， ， ? ， ?
- C. ， ， ， ， ?
- D. 。 ? ? ? ? ……

19. 在下列各句横线处，依次填入最贴切的词语。

- ①这些遗老遗少，\_\_\_\_\_，泥古不化，仇恨一切变革，甘做封建社会的殉葬品。
- ②有的人\_\_\_\_\_，不求进取，一直拒绝学习别人的经验，就靠那点看家本事混日子。
- ③如果只知道\_\_\_\_\_，搞老一套，那么，我们的事业还能发展么？
- ④一个是\_\_\_\_\_，一个是勇于创新，两种观念，两样态度，最后，必然是两种结果。

- A. 因循守旧 抱残守缺 固步自封 墨守成规
- B. 抱残守缺 固步自封 墨守成规 因循守旧
- C. 固步自封 墨守成规 因循守旧 抱残守缺
- D. 墨守成规 因循守旧 抱残守缺 固步自封

20. 将下列诗句依次填入杜牧的五律《旅宿》：“旅馆无良伴，凝情自悄然。\_\_\_\_\_，\_\_\_\_\_。\_\_\_\_\_，\_\_\_\_\_。沧江好烟月，门系钓鱼船。”选出排序正确的一项。

- ①远梦归侵晓 ②家书到隔年 ③断雁警愁眠 ④寒灯思旧事
- A. ②①③④
- B. ④②③①
- C. ①②④③
- D. ④③①②

21. 在下面一段文字横线处，填上与上下文衔接最好的一段话。

认真阅读的结果，不但随时会发现晶莹的宝石，\_\_\_\_\_。于是收取那些值得取的，排除那些不足取的，自己才会渐渐成长起来。

- A. 也不免发现令人遗憾的粗劣句子
- B. 也随时会发现粗劣的瓦砾
- C. 也随时会发现令人遗憾的粗劣句子
- D. 也会随时发现温润的璞玉

22. 在下面文字横线处，填上与上下文衔接最恰当的一句话。

各地房地产开发商以发展的眼光建设\_\_\_\_\_住宅小区。

- A. 凝结现代高科技的结晶、符合广大居民各种需要、创造一种居住文化氛围的一批
- B. 一批创造一种居住文化氛围、符合广大居民各种需要、凝结现代高科技的结晶的
- C. 一批符合广大居民各种需要、凝结现代高科技的结晶、创造一种居住文化氛围

的

D. 符合广大居民各种需要、凝结现代高科技的结晶、创造一种居住文化氛围的一批

23. 下面对联各题咏一位历史人物,按排序排列,对应人名完全正确的一组是\_\_\_\_\_。

①兵甲富于胸中,一代功名高宋室 / 忧乐关乎天下,千秋俎豆重苏台

②犹留正气参天地 / 永剩丹心照古今

③质而绮,真且醇,自可传之千古 / 樽中酒,篱下诗,岂甘了此一生

④大明湖畔,趵突泉边,故居在绿杨深处 / 漱玉集中,金石录里,文采有后主遗风

A. 范仲淹 辛弃疾 李白 李清照

B. 范仲淹 文天祥 陶渊明 李清照

C. 辛弃疾 辛弃疾 李白 柳永

D. 辛弃疾 文天祥 陶渊明 柳永

24. “天行健,君子以自强不息;地势坤,君子以厚德载物。”这句名言出自\_\_\_\_\_。

A. 《周易》

B. 《老子》

C. 《论语》

D. 《春秋》

25. 权力寻租是指握有公权者,以权力为筹码,谋求获取自身经济利益的一种非生产性活动。

下列行为中,不属于权力寻租的是\_\_\_\_\_。

A. 新闻单位假借曝光之名威胁、敲诈报道对象

B. 新闻单位为报道对象胡编乱造,大肆吹捧,以换取经济回报

C. 新闻单位参加企业出钱组织的旅游活动

D. 新闻单位报道失学儿童的情况,以此为失学儿童筹集捐款

26. 人在感知某一现实事物时,作为一个客观存在的整体来说是正确的,但对该事物的个别属性,如大小、形状、颜色、空间距离等产生与该事物不相符合的感知。医学上称之为感知综合障碍。下列属于感知综合障碍的现象是\_\_\_\_\_。

A. 在黑暗中错把木桩看成了人

B. 把平整的马路看成凹凸不平

C. 风吹花影动,疑是玉人来

D. 草木皆兵

27. 毛泽东的诗词雄浑豪放,大多与中国革命和建设事业密切相关,真切地展现了中国现代史的进程以及各个阶段的动人风貌。下列毛泽东诗句所反映的历史事件,按照时间先后顺序排列应为\_\_\_\_\_。

①风樯动,龟蛇静,起宏图。一桥飞架南北,天堑变通途。

②早已森严壁垒,更加众志成城。黄洋界上炮声隆,报道敌军宵遁。

③五岭逶迤腾细浪,乌蒙磅礴走泥丸。金沙水拍云崖暖,大渡桥横铁索寒。

④钟山风雨起苍黄,百万雄师过大江。虎踞龙盘今胜昔,天翻地覆慨而慷。

A. ②①③④

B. ②③④①

C. ③④②①

D. ③②①④

28. 经济学中的所谓“破窗理论”，是说玻璃门窗被砸破虽然造成一定的损失，但由此会让玻璃制造商、建筑商受益，以及引发新的建设链条的发展，从而拉动经济增长。“破窗理论”主要体现了\_\_\_\_\_。
- A. 生产与分配的关系                      B. 生产与消费的关系  
C. 积累与消费的关系                      D. 市场调节与宏观调控的关系
29. 二氧化碳被称作“温室气体”，它可以透射太阳短波辐射，使热能射入地面；同时又吸收地面放射出的长波辐射，将地球释放的热能截留。二氧化碳气体在大气中增多的结果就是形成一种无形的玻璃罩，从而产生“温室效应”。下列选项中，\_\_\_\_\_不是温室效应加剧所带来的环境问题。
- A. 生物生命活动紊乱  
B. 城市频繁出现光化学烟雾  
C. 全球气温升高，部分极冰融化  
D. 沿海低地国家和地区受到被海水淹没的威胁
30. 根据《中华人民共和国民法通则》的规定，我国公民的民事行为能力\_\_\_\_\_。
- A. 始于出生，终于死亡                      B. 始于 10 周岁，终于死亡  
C. 始于 18 周岁，终于死亡                      D. 始于 18 周岁，终于 80 周岁

### 三、阅读理解题

#### （一）阅读下面短文，回答下列五道题

在一定条件下，朦胧比清晰更富美感。古人云：“马上看壮士，月下看美人。”据天文学家称，即使是满月——十五的月亮，其亮度也只相当于阳光的五十万分之一。

长江三峡的神女峰，终年云雾缭绕，其险峻奇诡尽在半遮半掩之中，故有“半入仙境半人间”的飘渺意境。这种“飘渺”亦即朦胧。常导致人们产生创造性的思维活动，叫做“\_\_\_\_\_”。倘若有人走近去，实地考察一番，想那如仙似幻的景色必然减半，所得不过一片残山瘦水古树怪石而已。

所以，朦胧可以使一些事物得以藏拙遮丑而趋于尽美。“\_\_\_\_\_”则很难获得持久的美感享受。

现代企业管理学中有一门课叫做“行为科学”，它用社会心理学来研究人的行为及产生种种行为的原因，认为：人的欲望（或称需要）是人行为的发动器，倘欲望完全被行为实现而满足了，欲望立即消失，产生索然之感，这时候就需要另一种新的欲望来发动新的行为。而“朦胧”总是使人不识庐山真面目，赏美心理永远不能完全满足，也就不会\_\_\_\_\_。美感最强烈之点是刚刚触到迫切欲赏的美物而又没有完全得到的那一瞬间，这一瞬间就产生“临界点美感”，朦胧的美学功能就包括使人总是保持在兴趣盎然而不是索然的“临界点美感”上。

为满足人类这一固有的审美心理，作家为文则必须含蓄，状物抒情也必须蕴藉，即所谓“意贵透彻，语忌直率”。诚然，朦胧不是晦涩，不是让谁也看不懂，更不是一团漆黑。一言以蔽之：朦胧使美感纯化，使美感丰厚，使美感不衰。

31. 在文中二、三、四段的横线处，依次应填入的成语是
- A. 想入非非      洞若观火      兴致盎然  
B. 浮想联翩      明察秋毫      兴味索然  
C. 思绪万千      原形毕露      索然无味  
D. 异想天开      了如指掌      兴高采烈
32. 对文中概念“临界点美感”理解不正确的一项是
- A. 它产生于刚刚触到迫切欲赏的美物而又没有完全得到的那一瞬间。  
B. “临界点美感”所构成的心理基础是对美的事物的一种满足。  
C. 从心理学的角度来看，“临界点美感”是最强烈的美的感受。  
D. 使人保持在兴趣盎然的“临界点美感”上，是朦胧的美学功能之一。
33. 下列能作为“朦胧使美感纯化”这个观点的依据的一项是
- A. 朦胧导致人们产生创造性的思维活动，即“浮想联翩”。  
B. 朦胧可以使一些事物得以藏拙遮丑而趋于尽美。  
C. 朦胧不仅可以使美感丰厚，而且还能使之长久不衰。  
D. “明察秋毫”（不朦胧）则很难获得持久的美感享受。
34. 对“人的欲望（或称需要）是人为的发动器”理解正确的一项是
- A. 把行为比作发动器，是说行为的发展是非常迅速的。  
B. 用发动器代指人的行为，来探究行为发生的原因。  
C. 将欲望比成发动器，表明人的欲望永远不能满足。  
D. 把欲望比作发动器，是说人的行为是由欲望支配的。
35. 对文章的内容理解不正确的一项是
- A. 第一段引用“马上看壮士，月下观美人”，是要说明不清晰而产生出朦胧的美感。  
B. 第四段作者从社会心理学角度分析了朦胧能使人产生出强烈而持久的美感的原因。  
C. 最后一段通过朦胧与晦涩的比较，使人们对朦胧美有全面的认识，避免了片面性。  
D. 从全文看，作者认为朦胧是艺术创作的最高境界，只有朦胧才能使美感经久不衰。

## （二）阅读下面短文，回答下列五道题

从乐器的角度看，一把好的琵琶，声音好当然是第一位的。但怎样的琵琶声音才算好呢？这实在是个用语言和文字难以表述的问题。不过办法总是有的，直接、正面回答不上来，可以间接、侧面回答，最现成而著名的答案是那句“大珠小珠落玉盘”。然而，“珠落玉盘”所发出的压根就不是“乐音”。那么，为什么一千多年来，人们不但认可而且还无数次地引用这句话呢？我想，它至少道出了琵琶发音上的两个重要特点：弹拨乐器而具有某些打击乐器的发音效果；声音上要具备珠与玉的美学品质。

我国历来把“珠”和“玉”视为“珍宝”，或者说它们是中国人“美的理想”。在大自然中，很少有接近球形正圆体的天成之物，而“珠”能接近正圆体，这恐怕是珠能引起美感的原因之一，所谓“物以稀为贵”。而“玉”则致密、细腻，是一种“湿润而有

光泽的美石”，握在手里还有一种沉甸甸的分量感，这里“湿”“润”“泽”都带有三点水，这使人联想起悦耳的“乐音”有“水灵灵”的特性。珠与玉都有一种光彩，这光彩粗看并不“耀眼”、“逼人”，但细察则“绚烂之极”，即所谓东方人的含蓄之美。说“声音上要具备珠与玉的美学品质”，具体地也是笨拙地说，就是声音要具有圆润、饱满、结实、细腻、有分量、有光泽、水灵灵等性质。把一类事物的特性比附到另一类不同的事物上去，或者说把一种感官对象的性质移到另一种感官对象上去，这在修辞学上叫“通感”或“移觉”。例如，用“高”“低”和“明亮”“甘甜”来称呼和形容声音。事实上作为听觉对象的声音，并不具有空间上的高低位置以及视觉对象和味觉对象才有的明亮、甘甜的性质，之所以这样来称呼和形容，就是“通感”的原理在起作用。

用“珠落玉盘”来描述琵琶的声音，浅层是“比喻”以“拟声”，深层是“通感”以“会意”。它不但在制作上，同时也在演奏上为琵琶的基本音质作了“指归”——“珠玉之美”。这话也许反过来说更有力，在中国的民族乐器中，其发音最具珠玉之美的，是琵琶。

其实，单从制作上来要求好的琵琶声音，历来也是有正面、直接而具体的标准的，那就是行话所说的：“尖”，指高音区的发音明亮；“堂”，指低音区的发音洪亮；“松”，指按弹时发音灵敏，余音强而长；“脆”，指发音清脆；“爆”，指发音坚实而有分量。中国传统的琵琶音乐，文曲讲究余韵，武曲注重声势。因丝弦琵琶的丝弦张力小的缘故，也许在“余韵”和“声势”方面往往会感到不足，所以提出了从字面上看有点矫枉过正的五字标准，尤其是那个“尖”字，越来越难以使人认可，故已有人把它改为“亮”了。但对钢弦琵琶而言，这五条标准怕的不是做不到，而是过了头。所以把这五条标准结合“珠玉之美”这一条来综合考察，对怎样的琵琶声音才算好的理解，应该是有裨益的。

36. 现成而著名的“大珠小珠落玉盘”一句，出自\_\_\_\_\_。

- A. 白居易的《琵琶行》
- B. 李商隐的《锦瑟》
- C. 王实甫的《西厢记》
- D. 马致远的《汉宫秋》

37. 下面各项陈述中，最能说明“通感”特征的一项是

- A. 弹拨乐器而具有某些打击乐器的发音效果。
- B. 玉使人联想起悦耳的“乐音”有“水灵灵”的特性。
- C. 珠与玉的光彩，有着东方人的含蓄之美。
- D. 在中国民族乐器中，琵琶最具珠玉之美。

38. 下面对“珠落玉盘”用来形容琵琶声能引人美感的原因解释，不当的一项是

- A. 珠是接近球形正圆体的天成之物，玉是温润而有光泽的美石。
- B. 珠和玉的光彩粗看并不“耀眼”、“逼人”，但细察则“绚烂之极”。
- C. 人们把空间上的高低位置以及视觉对象和味觉对象转移到琵琶声上。
- D. 浅层是“比喻”以“拟声”，深层是“通感”以“会意”。

39. 文章开头说难以正面、直接回答什么样的琵琶声是好的，但最后一段又说历来有正面、直接而具体的标准，下面对此分析正确的一项是

- A. 起到先抑后扬的作用，从而强调“五字标准”的长处。
- B. 起到以退为进的作用，从而强调“五字标准”的缺陷。
- C. 起到正反对比的作用，能够说明“五字标准”的优点。



D. 起到前后比较的作用，能够说明“五字标准”的局限。

40. 根据全文内容，下面说法不恰当的一项是

- A. 如果从“乐音”的角度考虑，以“大珠小珠落玉盘”形容琵琶声并不合适。
- B. 浑圆之珠，湿润之玉，光彩绚烂，给人以美感，成为中国人“美的思想”。
- C. 中国传统的琵琶音乐，文曲讲究余韵，武曲注重声势，故而最具珠玉之美。
- D. 与丝弦琵琶相比，钢弦琵琶发音更“尖”、更“脆”，余音更长，声势更大。

### （三）阅读下面短文，回答下列五道题。

#### 飞翔的限制

奥林匹克运动的格言是“更快、更高、更强”，取得优异的运动成绩一直都是奥林匹克赛场上的不断追求。可是，在标枪的运动中，人们却通过精密的计算来降低运动成绩，这是什么原因呢？

在标枪运动中，真正具有划时代意义的变革发生在 20 世纪 70 年代。人们经过多年的实践后发现，标枪的飞行距离与标枪的重心位置和外形有着直接的关系：在重心位置不变的前提下，通过改变标枪的外形，可以减少标枪与空气的摩擦，大大提高标枪的飞行距离。后来，在此基础上，人们又开始为不同水平的运动员制造不同米级的标枪。研究人员发现，如果为投掷成绩 50 米的运动员设计制造出 50 米级的标枪，为投掷成绩 90 米的运动员设计制造出 90 米级的标枪，那么，运动员就能取得较好的成绩。原因很简单，按照这种方式设计出的标枪，与运动员的水平相适应，可以使运动员更好地利用器械。标枪分米级理论的创立是田径投掷器材制造历史上的一大创举，它为运动员投掷成绩的提高做出了巨大的贡献。

1984 年，德意志民主共和国男子标枪运动员霍恩掷出了 104.8 米的成绩，在人类历史上首次突破了 100 米的大关。

就在人们为世界纪录一次次被打破而\_\_\_\_\_时，一个新的问题出现了：当霍恩掷出 104.8 米的成绩时，田径投掷场地的长度不够用了，从场地一端飞出的标枪已经威胁到另一端的工作人员，甚至对看台上观众的人身安全形成了威胁。

在这种形势下，国际田联希望通过修改标枪的规则以减少标枪的飞行距离。当时，国际田联面临着两种选择：一是增加标枪的重量，二是改变标枪有关的设计参数。前者受到教练和运动员的反对，因为如果增加标枪的重量，就会对运动员水平的发挥带来不良影响，而后者需要通过实验拿出可靠的数据才可以实施。

国际田联在进行了大量实验后拿出了令人信服的数据：\_\_\_\_\_。多年的实践证明，有关标枪规格的修改，不仅达到了减少飞行距离的目的，而且有效地规范了标枪落地的角度，减少了裁判员的工作难度。

（刘英剑《飞翔的限制》 《小百科》2006 年 3 月 A）

41. 在文中第四段横线上应填入的词语，最贴切的是

- A. 欢呼雀跃
- B. 奔走相告
- C. 大声疾呼
- D. 额手称庆

42. 下边几句话是最后一段横线上国际田联拿出的令人信服的数据，其恰当的顺序应是

①这样可增大空气的阻力

- ②仅仅将标枪的重心前移 4 厘米
- ③不改变标枪的重量
- ④同时缩小标枪前段的直径，加大标枪后段的直径
- ⑤从而降低了标枪飞行的性能
- ⑥使成绩下降 10% 左右

- A. ③④②⑤①⑥                      B. ②⑤①⑥③④  
C. ③②④①⑤⑥                      D. ②③⑤①④⑥

43. 依据原文，下列哪一项不是标枪运动发展过程中的重大事件

- A. 设计出与运动员的水平相适应的不同米级的标枪，大大提高了标枪运动员的运动成绩。
- B. 德国标枪运动员霍恩掷出了 104. 8 米的成绩。
- C. 在人类首次突破了 100 米的大关后，国际田联修改了标枪比赛的诸多规则，使标枪运动更规范，更安全。
- D. 在不增加标枪重量的情况下，通过改变设计参数，控制了标枪的落地角度，降低了运动员的运动成绩。

44. 依据原文，下列哪一项不是人类历史上首次突破 100 米大关后所带来的问题

- A. 运动员的成绩越来越好，运动场地不够用了。
- B. 超人霍恩达到了人类标枪运动的极限，后人难以超越了。
- C. 标枪运动员的卓越表现威胁到了看台上观众的人身安全。
- D. 标枪场地上的工作人员越来越危险了。

45. 依据文章提供的信息，下列对文意的理解，正确的一项是

- A. 标枪的飞行距离、重心位置都和标枪的外形设计有着直接的关系。
- B. 国际田联希望通过修改标枪的规则以减少标枪的飞行距离，遭到了标枪运动员的反对，因为他们想超越前人，不愿意减少标枪的飞行距离。
- C. 二十世纪八十年代中期以前，裁判员的工作难度很大，因为标枪落地角度很难控制。
- E. 虽然背离了“更快、更高、更强”的奥林匹克运动的精神，但为了工作人员和观众的安全，不得不进行标枪规则的修改。

#### （四）阅读下面短文，回答下列五道题。

大海的波涛声是自然界最纯美、浑厚，且颇具神秘色彩的“音乐”。然而是谁“弹奏”了这一曲曲动人的音乐呢？美国科学家一项最新的研究发现，浪花中大大小小的气泡便是一位位天才的“演奏家”。

美国海洋学研究所科学家认为，涛声的音质取决于形成海浪所特有的浪端气泡的体积大小。他们分别对在实验室水池中和开放的海洋中拍摄到的高速录像进行了分析，并测算了浪端气泡的体积，进而为我们勾画出了一幅浪花中气泡形成的完整图画。

根据测算，科学家们将气泡分成一大一小两个种类，“大气泡”直径约在 1 毫米至 5 厘米之间，而“小气泡”的直径则小于 1 毫米。科学家介绍说，大气泡和小气泡的形成

过程不尽相同。海浪形成初期，浪尖会卷裹一部分空气形成一个管状空洞，当海浪下落时，这个空洞便被分割成若干部分，从而形成大气泡。当浪尖与海水再次相遇，飞溅起的浪花将海水表面的空气带入水中，小气泡就此诞生。根据科学家的结论，小气泡爆裂时所发出的声音要比大气泡更为激烈。虽然大小气泡的形成过程不尽相同，但两种过程都遵循了能量守恒的规律。这一规律在自然界中十分常见，如在地震和山体滑坡等自然现象中都可以找到它。

科学家认为，千万不要小瞧这些不起眼的气泡，它们不仅是“大海之音”的缔造者，更是大气与海洋相互作用的关键因素。通常，大大小小的气泡会将空气带入海水中，为海洋生物提供大量所需的二氧化碳气体。气泡的大小决定着海水溶解二氧化碳气体的数量，并且在很大程度上影响着大气中这一温室气体的含量。与此同时，气泡在海面爆裂的一瞬间，又向空气中输送了丰富的水汽，有助于云的形成。上述看似简单的正反两个过程，却对整个地球的气候有着深远的影响。

（选自《高考总复习·语文》，中国书店出版，2006）

46. 根据上下文，第四段中加点的“两个过程”指的是
- A. 气泡将空气带入海水中，同时为海洋生物提供二氧化碳气体。
  - B. 飞溅的浪花形成小气泡，并将二氧化碳溶解在海水中。
  - C. 气泡将空气带入海水中，并向空中输送丰富的水汽。
  - D. 气泡溶解二氧化碳气体，并将它提供给海洋中的生物。
47. 下列选项中，能作为海浪气泡“对整个地球的气候有着深远的影响”这一结论依据的一项是
- A. 大小气泡的形成都遵循了能量守恒的规律。
  - B. 海浪气泡决定了大气中二氧化碳气体的含量。
  - C. 形成海浪的浪端气泡的体积大小决定着涛声的音质。
  - D. 不起眼的气泡是大气与海洋相互作用的关键因素。
48. 下列说法不符合原文意思的一项是
- A. 海浪中的气泡能发出纯美、浑厚的声音，这是海洋学研究所的科学家通过实验和观测发现的。
  - B. 地球上二氧化碳气体的数量影响着大气的温度，而二氧化碳的数量在很大程度上是由海水中的大小气泡决定的。
  - C. 科学家将气泡分成一大一小两个种类，大小气泡形成的过程不尽相同，但都遵循了能量守恒的规律。
  - D. 浪尖卷裹的空气被海浪分割成大气泡，同时浪花将海水表面的空气带入水中形成1毫米大的小气泡。
49. 下列对本文主要内容的概括，最准确的一项是
- A. 海洋中的气泡是天才的演奏家
  - B. 海洋中气泡的成因及其作用
  - C. 海洋与大气的相互作用及其影响
  - D. 海洋中的能量守恒的规律

50. 根据原文所给的信息, 以下推断不恰当的一项是

- A. 大气泡是管状空洞被海浪切割形成的, 其直径超过了 1 毫米, 因此在爆裂时所发出的声音也就更激烈些。
- B. 在地震和山体滑坡等自然现象中都可以发现能量守恒的规律, 可见这个规律是对物质运动现象的准确的抽象。
- C. 目前, 科学家都很重视改善大气环境, 他们对海水溶解二氧化碳的研究, 可能为减弱地球“温室效应”提供新的思路。
- D. 浪花中的气泡成了弹奏动人音乐的天才演奏家, 这种奇妙的比喻表明科学和艺术常常是联系在一起的。

## 第二部分 数学基础能力测试

(25 题, 每题 4 分, 满分 100 分, 考试时间 45 分钟)

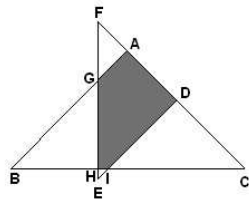
1. 两堆煤共重 76.5 吨, 第一堆运走  $\frac{4}{5}$ , 第二堆运走  $\frac{3}{4}$  后, 剩下的两堆煤正好相等。

第一堆煤原来有 ( ) 吨。

- (A) 30 (B) 34 (C) 38 (D) 42.5

2. 如图, 两个等腰直角三角形叠放在一起, AF 长 3, AC 长 12, DE 长 8, 重叠部份(阴影部份)五边形 AGHID 的面积是 ( )。

- (A) 27.25 (B) 26.25 (C) 26.5 (D) 27.5



3. 某零件加工厂按照工人完成的合格零件和不合格零件数支付工资, 工人每做出一个合格零件能得到工资 10 元, 每做出一个不合格的零件将被扣除 5 元。已知某人一天共做了 12 个零件, 得到工资 90 元, 那么他在这一天做了多少不合格零件? ( )。

- (A) 1 (B) 2 (C) 3 (D) 4

4. 曲线  $y = x^2 + ax + b$  与曲线  $2y = -1 + xy^3$  在点  $(1, -1)$  处相切, 则  $a, b$  分别为 ( )。

- (A)  $a = 1, b = 1$  (B)  $a = -1, b = 1$  (C)  $a = 1, b = -1$  (D)  $a = -1, b = -1$

5. 甲地到乙地是斜坡路, 一辆货车上坡速度是每小时 30 千米, 下坡速度是每小时 60 千米, 这辆货车在甲、乙两地间往返一次共需 4.5 小时, 甲、乙两地相距 ( ) 千米。

- (A) 120 (B) 54 (C) 60 (D) 90

6. 某校开设 9 门课程供学生选修, 其中  $A, B, C$  三门由于上课时间相同, 至多选一门,

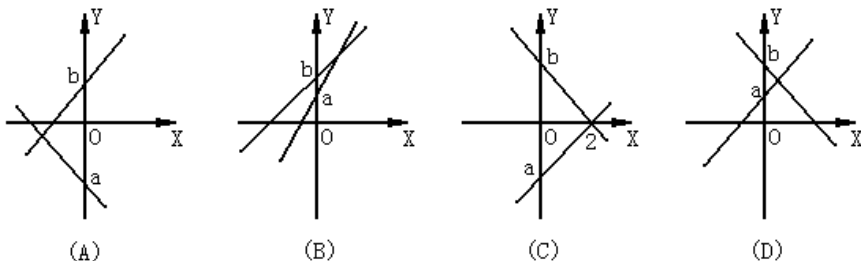
学校规定每位同学选修 4 门, 则每人有 ( ) 种不同选修方案。

- (A) 75 (B) 70 (C) 60 (D) 80

7. 在  $(3x^2 - \frac{2}{\sqrt{x}})^{20}$  的展开式中, 常数项是第几项? ( )

- (A) 2 (B) 3 (C) 4 (D) 5

8. 设  $b > a$ , 将一次函数  $y = bx + a$  与  $y = ax + b$  的图象画在同一平面直角坐标系内, 则有一组  $a, b$  的取值, 使得下列 4 个图中的一个为正确的是 ( )。



9. 方程组  $\begin{cases} (x+1)(y+1) = 4 \\ x+y = k \end{cases}$  有实数解, 则  $k$  的取值范围是多少? ( )

- (A)  $k \geq 2$  或  $k \leq -6$  (B)  $k > 2$  (C)  $k \leq -6$  (D)  $-6 \leq k \leq 2$

10. 如  $0 < \alpha < \beta < \frac{\pi}{4}$ ,  $\sin \alpha + \cos \alpha = a$ ,  $\sin \beta + \cos \beta = b$ , 则 ( )。

- (A)  $a < b$  (B)  $a > b$  (C)  $ab < 1$  (D)  $ab > 2$

11. 已知  $\triangle ABC$  的顶点  $B, C$  在椭圆  $\frac{x^2}{3} + y^2 = 1$  上, 顶点  $A$  是椭圆的一个焦点, 且椭圆的

另外一个焦点在  $BC$  边上, 则  $\triangle ABC$  的周长是 ( )。

- (A)  $2\sqrt{3}$  (B) 6 (C)  $4\sqrt{3}$  (D) 12

12. 一袋中装有大小相同, 编号分别为 1, 2, 3, 4, 5, 6, 7, 8 的八个球, 从中有放回地每次取一个球, 共取 2 次, 则取得两个球的编号和 不小于 15 的概率为 ( )。

- (A)  $\frac{1}{32}$  (B)  $\frac{1}{64}$  (C)  $\frac{3}{32}$  (D)  $\frac{3}{64}$

13. 若复数  $z$  满足  $z - \sqrt{3}(1+z)i = 1$ , 则  $z + z^2$  的值等于 ( )。

- (A) 1 (B) 2 (C) -1 (D)  $-\frac{1}{2} + \frac{\sqrt{3}}{2}i$

14. 关于  $x$  的不等式  $|3-x| + |x-2| < a$  的解集为空集, 则实数  $a$  的取值范围是 ( )。

- (A)  $a > 1$  (B)  $a \leq 1$  (C)  $a < 1$  (D)  $a \geq 1$

15. 双曲线虚轴的一个端点为  $M$ , 两个焦点为  $F_1$  与  $F_2$ . 设  $\angle F_1 M F_2 = 120^\circ$ , 则该双曲线的离心率为 ( )。

- (A)  $\sqrt{3}$  (B)  $\frac{\sqrt{6}}{2}$  (C)  $\frac{\sqrt{6}}{3}$  (D)  $\frac{\sqrt{3}}{3}$

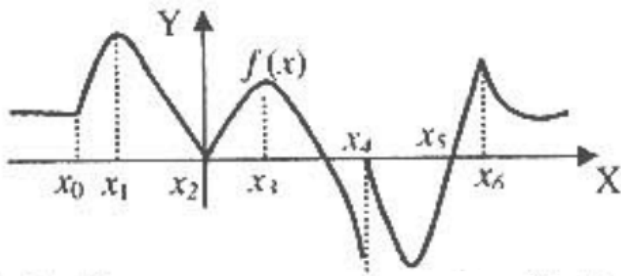
16. 设  $f(x) = \begin{cases} x^a \sin \frac{1}{x}, & x > 0, \\ 0, & x = 0, \end{cases}$  则下列结论中错误的是 ( )。

- (A) 当  $a \leq 0$  时,  $\lim_{x \rightarrow 0^+} f(x)$  不存在;  
 (B) 当  $0 < a \leq 1$  时,  $f(x)$  在  $x = 0$  处连续但不可导;  
 (C) 当  $1 < a < 2$  时,  $f(x)$  在  $x = 0$  处可导但导函数不连续;  
 (D) 当  $a = 2$  时,  $f(x)$  在  $x = 0$  处导函数连续。

17. 曲线  $y = e^{\frac{1}{x^2}} \arctan \frac{x^2 + x - 1}{(x+1)(x-2)}$  的渐近线有 ( )。

- (A) 0 条 (B) 1 条 (C) 2 条 (D) 3 条

18. 函数  $f(x)$  图形如图所示, 它的不可导点为 ( )。



- (A)  $x_1, x_2, x_4, x_5$  (B)  $x_2, x_4, x_5, x_6$  (C)  $x_0, x_2, x_4, x_5$  (D)  $x_0, x_2, x_4, x_6$

19. 设函数  $y = f(x)$  具有二阶导数, 且  $f'(x) > 0$ ,  $f''(x) > 0$ ,  $\Delta x$  为自变量  $x$  在  $x_0$  处的增量,  $\Delta y$  与  $dy$  分别为  $f(x)$  在点  $x_0$  处对应的增量与微分, 若  $\Delta x > 0$ , 则 ( )。

- (A)  $0 < dy < \Delta y$ . (B)  $0 < \Delta y < dy$ .  
 (C)  $\Delta y < dy < 0$ . (D)  $dy < \Delta y < 0$ .

20. 过曲线  $y = \sqrt[3]{x} (x \geq 0)$  上一点 A 做切线, 使该切线与曲线及  $x$  轴围平面图形的面积为 0.75, 则 A 的横坐标为 ( )。

- (A) 0.5 (B) 1 (C) 2 (D) 2.5

21. 设函数  $g(x)$  可微,  $h(x) = e^{1+g(x)}$ ,  $h'(1) = 1$ ,  $g'(1) = 2$ , 则  $g(1)$  等于 ( )。

- (A)  $\ln 3 - 1$  (B)  $-\ln 3 - 1$  (C)  $-\ln 2 - 1$  (D)  $\ln 2 - 1$

22. 设有齐次线性方程组  $Ax=0$  和  $Bx=0$ , 其中  $A, B$  均为  $m \times n$  矩阵, 现有 4 个命题:

- ① 若  $Ax=0$  的解均是  $Bx=0$  的解, 则秩(A)  $\geq$  秩(B);  
② 若秩(A)  $\geq$  秩(B), 则  $Ax=0$  的解均是  $Bx=0$  的解;  
③ 若  $Ax=0$  与  $Bx=0$  同解, 则秩(A) = 秩(B);  
④ 若秩(A) = 秩(B), 则  $Ax=0$  与  $Bx=0$  同解.

以上命题中正确的是 ( )。

- (A) ① ② (B) ① ③ (C) ② ④ (D) ③ ④

23. 线性方程组 
$$\begin{cases} ax_1 - 2x_2 - x_3 = 1 \\ 2x_1 + x_2 + x_3 = 1 \\ 10x_1 + 5x_2 + 4x_3 = 2 \end{cases}$$
 则 ( )。

- (A)  $a \neq -4$  时, 方程组有唯一解 (B)  $a \neq -4$  时, 方程组无解  
(C)  $a \neq -4$  时, 方程组有无穷多解 (D)  $a \neq -1$  时, 方程组有无穷多解

24. 设  $A$  是  $m \times n$  矩阵,  $B$  是  $n \times m$  矩阵, 则 ( )。

- (A) 如果  $m < n$ , 则 0 不是  $AB$  的特征值 (B) 如果  $m < n$ , 则 0 是  $AB$  的特征值  
(C) 如果 0 是  $AB$  的特征值, 则  $m > n$  (D) 如果 0 不是  $AB$  的特征值, 则  $m \leq n$

25. 矩阵  $A = \begin{pmatrix} 2 & -1 & 2 \\ 5 & -3 & 3 \\ -1 & 0 & -2 \end{pmatrix}$  的属于特征值  $\lambda = -1$  的特征向量是 ( )。

- (A)  $(1, 0, 1)^T$  (B)  $(0, 1, -1)^T$  (C)  $(-1, -1, 1)^T$  (D)  $(2, 1, -1)^T$

### 第三部分 逻辑基础能力测试

(50 题, 每题 2 分, 满分 100 分, 考试时间 45 分钟)

1. 有些文人也是政治家, 没有政治家不具备很高的人文修养。

如果上述断定为假, 则以下哪项不能确定真假?

- (A) 所有文人不是政治家。  
(B) 如果有些文人是政治家, 那么有些政治家没有很高的人文修养。  
(C) 或者所有文人不是政治家, 或者有些政治家的人文修养并不太高。  
(D) 如果所有政治家都有很高的人文修养, 那么所有文人都不是政治家。

2. 有些土壤学家声称森林地面的腐烂物比降在湖中的酸雨更会增加高山湖水的酸性。

因此，他们认为减少酸雨并不一定能明显地降低高山湖泊的酸性水平。

以下哪项如果为真，将最严重地削弱上面的论证？

- (A) 高山湖泊的酸性比其他湖泊高是很正常的事。
- (B) 人们严重低估了湖水酸性升高的危害。
- (C) 在城市和重工业地区酸雨是非常常见的现象。
- (D) 如果有植物生命存在，酸雨会显著增加自然环境中腐烂的有机物的数量。

3. 朱红：调查结果显示：在中关村工作的知识分子的平均死亡年龄为 55.34 岁，远低于北京市人均期望寿命 76 岁。可见，知识分子由于用脑过度，将相对更早的死亡。

林娜：你忽略了一点，在中关村工作的人，几乎没有老人。

林娜的论证是通过以下哪种方式展开的？

- (A) 针对对方的论据，提出另一解释。
  - (B) 通过特殊现象归纳出普遍原理。
  - (C) 针对已经被清楚理解的现象和未被解释的现象之间的相似性进行类推。
  - (D) 指出对方的论据明显不符合事实。
4. 通常情况下，只有当蚊子叮咬了患有黑热病的啮齿类动物后，该蚊子再叮咬人时，黑热病才传染到人身上。然而，当计划在蚊子很多且黑热病流行的土地上建设两个新城镇时，负责公众健康的官员警告说，减少啮齿类动物数量的努力所造成的危害将比带来的好处还要多。

以下哪项如果为真，最好地支持了该官员所作警告的合理性？

- (A) 感染了黑热病的啮齿动物直接将该病传染给人的几率很低。
  - (B) 一些啮齿类动物即使没有感染上黑热病也表现出了黑热病的症状。
  - (C) 没有感染上黑热病的蚊子对人的健康构成的威胁很小。
  - (D) 当没有足够数量的啮齿类动物的情况下，蚊子才会去叮咬人类。
5. 在其 3 年任职期满后，田校长被指对女性有性别歧视。在其推荐的 19 个特等奖学金候选人中，仅有 5 名女性。

以下哪项如果为真，将最严重的削弱上述论证？

- (A) 该校长推荐的一位女性特等奖学金候选人经审查后被取消了获奖资格。
  - (B) 该校长所在的学校要求每年的特等奖学金获得者中至少有 5 名女性。
  - (C) 该校男女生人数比为 3: 1。
  - (D) 该校长推荐的五位女性特等奖学金候选人经审查后均获得了特等奖学金。
6. 人们经常能回忆起在感冒前有冷的感觉。这就支持了关于感冒病因的一种假设，是寒冷使感冒病毒侵入了人体。

以下哪项如果为真，能最严重地削弱上述论证？

- (A) 着凉是一种压力，而压力会削弱防止人体染病的人体免疫系统的抵御能力。
- (B) 感冒病毒存在于人体内数日后，引起的第一个症状就是冷的感觉。
- (C) 先受累然后着凉的人比不受累只受凉的人更容易患重感冒。
- (D) 有些患感冒的人并不知道是什么引起了他们感冒。



7. 以往，对于大部分运营问题，总裁均当面听取负责人的报告，结果浪费了很多时间在冗长的谈话中。现在，总裁仅在必要时才与负责人面谈，其余均以书面审阅和书面问答的方式进行决策。这样，可望大大提高决策的效率。

以下哪项如果为真，是上述论证必须的假设？

- (A) 书面交流很可能比面谈效率更高。
- (B) 一般的，当面谈话一定比文字交流花更多的时间。
- (C) 面对文字，总裁有更多的时间反复斟酌。
- (D) 总裁有很高的决策水平。

- 8-9 题基于以下共同题干：

电话公司对当地的电话业务拥有垄断权。有线电视节目除了可以通过常见的同轴电缆传输外，也可以通过电话公司所拥有的电话线路进行传输。有线电视节目提供商认为，如果电话公司也开展有线电视节目业务，那么他们将拥有不公平的竞争优势。因为，他们能够用电话业务的垄断权所带来的丰厚利润来补贴有线电视节目业务。

8. 以下哪项如果为真，将减轻有线电视节目提供商的担心？

- (A) 为了使用现有的电话线路，本地电话公司需要将他们现有的操作系统进行现代化改造，这个过程非常昂贵，可能耗尽电话公司的垄断权所带来的所有利润。
- (B) 如果电话公司计划在特定区域里提供有线电视节目服务，那么该公司就会拥有在该地区提供有线电视服务的垄断权。
- (C) 不管是由有线电视节目提供商提供还是由本地电话公司提供，提供有线电视节目服务的成本具有规模效应，也就是说，随着加入有线电视节目网络的家庭数量的增加，传输有线电视节目的总成本仅仅增加一定的边际成本而已。
- (D) 能够提供更多频道的有线电视节目已经可以用卫星天线接收到，但是安装该天线的初始成本是非常高昂的。

9. 根据上文中所提供的信息，有线电视节目提供商所指的“竞争优势”一定包括下列哪一项？

- (A) 品牌优势
- (B) 价格优势
- (C) 技术优势
- (D) 质量优势

10. 不必然任何经济发展都导致生态恶化，但不可能有不阻碍经济发展的生态恶化。

以下哪项最为准确地表达了题干的含义？

- (A) 任何经济发展都不必然导致生态恶化，但任何生态恶化都必然阻碍经济发展。
- (B) 有的经济发展可能导致生态恶化，而任何生态恶化都可能阻碍经济发展。
- (C) 有的经济发展可能不导致生态恶化，但任何生态恶化都可能阻碍经济发展。
- (D) 有的经济发展可能不导致生态恶化，但任何生态恶化都必然阻碍经济发展。

11. 一位语文老师在教学实验中，将一些真正的格言混杂在一些他自己编造的、含义含糊、但听起来很像格言的句子中。然后让他的学生在上述句子中选择格言并进行评价。结果，学生们对真正的格言与那些该老师自己编造的伪格言评价基本相同。这个老师由此得出结论，格言之所以有其地位，并非由于其具有哲理，而是由于它们经常被使用。

以下哪项如果为真，最有助于质疑该老师的推论？

- (A) 上述实验中的格言的使用频率远高于其他格言。
- (B) 在所列出的句子中，真正格言的数量比伪格言的数量要多。
- (C) 该老师是小学老师，他的学生语文水平很一般。

(D) 该老师的学生有一些喜欢从辞藻方面考虑问题，而另一些喜欢从内涵角度来思考。

12. 某牧师向汤姆展示了一幅配有说明的图画，图画表明，那些虔诚的信奉上帝的人都从沉船中逃生了。牧师问汤姆，是否仍然不信上帝的神力。他回答：“是的。那些信奉上帝，但仍然被淹死的人在画面的哪里呢？”这就是所有的迷信方式的通病，他们只记下成功的案例，而故意忘记那些失败的事情。

以下哪项与牧师的错误最为类似？

- (A) 尽管伟人邓小平和拿破仑都个子矮，但林肯和德高立都是高个子。可见，是否成为领导与个子高矮没什么关系。
- (B) 在过去 15 年的每个学期中，平均有十名学生放弃了张教授的历史课。因此，我估计这个学期也会有七到十人放弃他的历史课。
- (C) 没有任何可信的证据证明有人真的见过雪人，因此，我认为这次寻找雪人的努力仍会劳而无功。
- (D) 我发现 5 月 13 日真的是不吉利的一天，就是上个星期五，5 月 13 日，我丢失了心爱的篮球。

13. 一项拟议中的法令要求在新的住宅中安装一旦出现火情就自动触发的喷水装置。然而，一个住宅建筑商争辩说，因为超过 90% 的居室火灾是由住户中的人扑灭的，因此居室中的喷水装置只能稍微减轻由居室火灾引起的财产损失。

以下哪项如果为真，将最严重地削弱该住宅建筑商的论述？

- (A) 绝大多数人没有受过如何扑灭火灾的正规训练。
- (B) 由于新的住宅在城市中可以使用的房屋中只占很小的一部分，这种新的法令在适用范围上将非常狭小。
- (C) 在新住宅中安装烟雾探测器将比安装喷水装置的成本低很多。
- (D) 由居室火灾引起的财产损失中，70% 是住户家中无人时发生的火灾造成的。

14—15 题基于以下共同题干：

张教授：我建议所有艺术爱好者去看看刘华导演的歌剧《梦》。虽然该剧没有达到世界水平，但它对近 10 年以来现代歌剧的表演风格产生了巨大影响。

李教授：我不这么认为。慈禧太后仍然对我们的时代有着重大影响，但那不意味着我们应该对她表示敬意。

14. 以下哪项最好的概况了两人的争论焦点？

- (A) 刘华导演的歌剧《梦》是否对现代歌剧的表演风格产生了巨大影响。
- (B) 刘华导演的歌剧《梦》是否是一部非常出色的作品。
- (C) 刘华导演的歌剧《梦》是否值得欣赏。
- (D) 是否有重大影响的作品都值得欣赏。

15. 以下哪项最好的概括了李教授所运用的论证方法？

- (A) 提出了一个比对方更有力的证据。
- (B) 构造了一个类似的论证，以此证明对方的错误。
- (C) 提出一个反例，来反驳对方的一般性结论。
- (D) 指出对方混淆了一个关键性概念。

16. 如果一个企业没有政府的帮助也能获得可接受的利润，那么它是有自生能力的。如果一个企业在开放的竞争市场中没办法获得正常的利润，那么它就没有自生能力。除非一个企业有政策性负担，否则得不到政府的保护和补贴。由于国有企业拥有政府的保护和补贴，即使它没有自生能力，也能够赢利。

如果以上陈述为真，以下哪项陈述一定为真？

- (A) 如果一个企业有政策性负担，它就能得到政府的保护和补贴。
  - (B) 在开放的竞争市场中，每个企业都是有自生能力的。
  - (C) 如果一个企业没有自生能力，它就会在竞争中被淘汰。
  - (D) 如果一个企业有政府的保护和补贴，它就会有政策性负担。
17. 古澳洲珊瑚的化石在比目前澳洲珊瑚生长的地方深得多的海底被发现了。因此，尽管表面上二者几乎没区别，但前者能在深水中生长说明它们之间一定存在着未知的显著不同。

上述论证依据下面哪个假设？

- (A) 不可能发现更古老的澳洲珊瑚化石。
  - (B) 地理变动不会使古澳洲珊瑚化石下沉。
  - (C) 今天的澳洲珊瑚只生活在浅水区域。
  - (D) 已发现了各个时期的澳洲珊瑚化石。
18. 直到去年，北京红方和上海前进这两所培训学校几乎垄断着餐饮培训市场。然而今年中国海洋培训学校异军突起，预计将取得餐饮培训市场总销售额的 20%。由此市场研究专家们预测，今年北京红方和上海前进这两所培训学校的总销售额将相应地下降 20%。

以下项是市场研究专家们的预测所基于的假设？

- (A) 大多数消费者倾向于选择中国海洋培训学校而不是北京红方和上海前进学校。
  - (B) 红方、前进、海洋都能提供餐饮培训服务，但是红方和前进学校的培训让考生离开学校后不能适应社会了。
  - (C) 在今年之前，海洋培训只接收没有任何基础的考生。
  - (D) 中国海洋培训学校的加入将不会增加整个餐饮培训考试市场的总销售额。
19. 要想有出色的教学质量，就要引进优秀的教师。除非给予教师很好的待遇，否则不能引进优秀的教师。

以下各项均符合上述论述，除了？

- (A) 一个教学质量很差的学校，教师待遇一定不好。
  - (B) 或者没有出色的教学质量，或者有很好的教师待遇。
  - (C) 不存在这样的学校，有出色的教学质量，但教师待遇很差。
  - (D) 要引进优秀的教师，必须给予其很好的待遇。
20. 牛奶供应商：我们最近推出的“火火”牌儿童用牛奶制品，添加了钙、锌等元素。大家知道钙、锌元素对儿童的成长来说必不可少，因此，经常饮用“火火”牌儿童牛奶有助儿童健康成长。

大姐：但是我发现“火火”牌牛奶制品的含糖量非常高，而经常食用大量的糖对饮用者的健康是极为不利的，尤其是儿童。

作为对牛奶供应商的回应，大姐采用了以下哪一项技巧？

- (A) 对牛奶供应商关于儿童饮用“火火”牌牛奶制品中的钙、锌元素的营养价值提出质疑。
- (B) 指出如果对供应商提供的证据进行适当考虑，运用这些证据同样可以得出和供应商完全相反的结论。
- (C) 指出牛奶供应商的言论有自相矛盾之处。
- (D) 提供能够对供应商的结论产生质疑的其它事实材料。

21. 传闻中的汽车工业收入的下降是言过其实的。汽车制造商在整个行业收入中的份额实际已从两年前的 65%降到了今天的 50%，但是在同一段时间内汽车零部件供应商的收入份额却从 15%增加到 20%，服务公司（例如：分配商、销售商和修理工）的收入份额也从 20%上升到 30%。

以下哪项能最好地解释为什么上述统计数字不能恰当地支持它的结论？

- (A) 这样的可能性是显而易见的，即制造商的收入份额与其他统计数字具有不同的出处。
- (B) 不管汽车工业总的收入经历什么样的变化，所有这些收入份额的总和必然是 100%。
- (C) 没有给出解释为什么这个行业不同部门的收入份额会发生改变。
- (D) 制造商和零部件公司的收入依赖于销售商成功地销售汽车。

22. 一个著名的职业球员可能在分析球队强弱时十分在行，但当他在电视广告中推荐剃须刀或者火腿肠时，他的建议是否可靠就值得怀疑了。同样的，当一个优秀的演员，在广告中推荐某种不含咖啡因的咖啡时，观众也有理由怀疑他的意见的权威性。一个人在他擅长的专业的见解当然值得重视，但人们有十足的理由怀疑他在其他领域的权威性。

以下哪项是上述推理必须的假设？

- (A) 建议的权威性与建议者在该领域的专业水平紧密相关。
- (B) 在评价一个人的建议时，他的实际经验比学术水平更值得关注。
- (C) 许多商业广告的证据仅仅是明星的推荐。
- (D) 许多观众根本不会关注广告的内容。

23. 一份研究报告指出，在接受了一个特殊教育方案的辅导后的半年中，100 名 3—5 岁孩子的认知能力大幅提高。因此，对所有孩子实行类似的教育方案会提高他们的认知能力。

以下哪项如果为真，最能削弱上面的论证？

- (A) 目前，学龄前儿童父母被各种教育方案过分吸引了，他们并不清楚孩子接受什么样的早期教育才是有利的。
- (B) 儿童在 3—5 岁时的各项能力是不断变化的。
- (C) 上述 100 名孩子中的大多数同期接受了另一教育机构的培训试验。
- (D) 很多父母错误地认为早期正规教育将占用孩子们本来可以更好地独立探索世界的时间。

24. 实际上，工业可用的铜的数量估计已不应再受已知的或未知的铜矿储量所限制。现在，通过核物理上的一些方法把一种化学元素转变成另一种已成为现实。因此铜可以由其他金属制成。
- 下面哪个，如果正确，将对上文论证做出最强有力的驳斥？
- (A) 尽管可能找到其他的铜矿，但地质考察已强有力地显示出它们最多只能支撑 50 年。
  - (B) 铜如用其他金属炼制，耗费的能源和材料将过分地昂贵。
  - (C) 人们发现了一些能在铜的大部分应用中替代铜的合成物质。
  - (D) 在可以预见的将来，去开采在月球上或其他星球上存在的金属是不现实的。
25. 鱼龙与鱼之间的相似性是趋同性的一个例子。趋同性就是不同种类的生物为适应同一环境而独自发育形成一个或多个相似的外部身体特征的过程。鱼龙是海生爬行动物，与鱼不属于同一纲的生物。然而，鱼龙通过把它们的外部身体特征与鱼类趋于一致来适应海洋环境。
- 如果上面的陈述是正确的，下面哪一点是基于上述陈述的合理推论？
- (A) 栖居于同一环境的生物体的所有外部身体特征一定完全相同。
  - (B) 某一种类的生物体成员一定具有一个或多个使它们与其他种类的生物体相区分的外部身体特征。
  - (C) 一种生物发育成与其他种类的生物相似的外部身体特征完全是它们适应相似环境的结果。
  - (D) 不能仅仅因为某一生物具有一个或多个与某类生物体相似的身体外部特征，就把该生物与它们归为一类。
26. 科学不是宗教，宗教都主张信仰，所以主张信仰都不科学。
- 以下哪项最能说明上述推理不成立？
- (A) 台湾人不是北京人，北京人都说汉语，所以，说汉语的人都不是台湾人。
  - (B) 商品都有使用价值，空气当然有使用价值，所以空气当然是商品。
  - (C) 不刻苦学习的人都成不了技术骨干，小张是刻苦学习的人，所以小张能成为技术骨干。
  - (D) 所有渴望成功的人都必须努力工作，我不渴望成功，所以我不必努力工作。
27. 人们已经认识到，除了人以外，一些高级生物不仅能适应环境，而且能改变环境以利于自己的生存。其实，这种特性很普遍。例如，一些低级浮游生物会产生一种气体，这种气体在大气层中转化为硫酸盐颗粒，这些颗粒使水蒸气浓缩而形成云。事实上，海洋上空的云层的形成很大程度上依赖于这种颗粒。较厚的云层意味着较多的阳光被遮挡，意味着地球吸收较少的热量。因此，这些浮游生物使得地球变得凉爽，而这有利于它们的生存，当然也有利于人类。
- 以下哪项最为准确地概括了上述议论的主题？
- (A) 为了改变地球的温室效应，人类应当保护浮游生物。
  - (B) 并非只有高级生物才能改变环境以利于自己的生存。
  - (C) 一些浮游生物通过改变环境以利于自己的生存，同时也造福于人类。
  - (D) 海洋上空云层形成的规模，很大程度上取决于海洋中浮游生物的数量。

28. 安慰药是一种化学性质为惰性的物质，更多地用来给予病人精神上的安慰而非治疗病人身体的紊乱。给病人用这种药是期望给病人灌输对其康复前景的积极态度。在某些情况下，安慰药确实起到了改善病人病情的效果。一位著名医药研究专家在最近讨论安慰药的应用及效果时，给了内科医生一些不寻常的赞扬，说内科医生就是最终的安慰药。

该专家通过将内科医生比作安慰药试图暗示

- (A) 内科医生能将积极的态度传递给他的病人。
  - (B) 有些病人仅仅由于他们知道医生在给他们治疗而恢复了健康。
  - (C) 很多病人患的实际上是想象病，这些病最好的医治是安慰药。
  - (D) 优秀的医生除了有高超的诊疗技术外，还应该具备一定的心理学知识，例如帮助患者树立信心。
29. 经济中两种基本变动中的任何一个都会导致通货膨胀，除非还发生了其他的抵消性变动。这两种变动是产品和服务供给的减少和需求的增加。在银行信用产生前的经济中，可利用的货币数量以及相应的产品和服务需求水平等于可利用的黄金数量。如果以上的叙述正确，那么在银行信用产生前的经济中，
- (A) 任何的通货膨胀都是产品和服务供给减少的结果。
  - (B) 如果经济中的其他因素不变，可利用的黄金数量的增加会导致通货膨胀。
  - (C) 其他情况不变时，如果可利用的黄金数量减少了，就会发生通货膨胀。
  - (D) 一定数量的黄金可以购买的产品和服务数量是一定的。
30. 虽然泰勒匹林已经被证明可以消除某些中度的发烧，但许多医生不再推荐使用它来退烧。因为中度发热刺激了体内抵抗疾病的白细胞的活动，这种活动可以抑制许多种引起疾病的细菌的生长。

以下哪项如果为真，最能加强上述论证？

- (A) 泰勒匹林虽然是一种有效的镇痛剂，但有可能引起强烈的胃部不适。
  - (B) 通过消除中度发烧，泰勒匹林可以缩短病人患病的时间。
  - (C) 泰勒匹林通过抑制白细胞的活动，达到消除发烧的目的。
  - (D) 病人体内的白细胞活动越强，病人的疾病好的越快。
31. 五方市街道两侧只种植了非洲桂树或者澳洲樱花，这两种树每年都会开红色或者白色的花。今年，五方市街道两侧没有出现白色的花。
- 如果以上断定为真，则以下哪项必定为真？
- (A) 五方市街道两侧今年种植了非洲桂树。
  - (B) 五方市街道两侧的澳洲樱花今年开了红色的花。
  - (C) 五方市街道两侧今年开了红花。
  - (D) 五方市今年没有树木开白花。

32. 地理学家和历史学家过去一直认为南极是在 1820 年左右被首次发现的。但在最近发现的一些 16 世纪地图上，南极位置被标识为一块陆地，但那时的探险家不可能见到过它。因此有些学者认为古代人很可能早已发现并探索了南极大陆。

以下哪项如果为真，最能削弱上文学者的推断？

- (A) 谁最先发现南极的问题在现代依然很有争议，没有人能给出结论性的论据。

(B) 在 3000 到 9000 年以前, 地球比现在更温暖, 极地可能比现在要小。

(C) 只有几张 16 世纪的地图标识出了南极大陆。

(D) 古代的哲学家认为在南极应该会有一大块地域来与北极大陆相平衡并使地球对称。

33. 对于心脏病, 甲医院的治愈率为 70%, 而乙医院仅为 58%。可见, 甲医院的治疗手段更为高明一点。

除以下哪项, 其余如果为真, 均可削弱上述论证?

(A) 甲医院的心脏病专家数量高于乙医院。

(B) 甲医院的病人数量低于乙医院。

(C) 甲医院的先进设备少于乙医院。

(D) 甲医院位于新兴小区, 而乙医院位于老年社区。

34. 在美国, 每年接受治疗的精神忧郁症病人的人数超过 200 万人, 是中国的接近 10 倍, 而中国的人口则接近美国的 10 倍。

以下各项如果为真, 都有助于解释上述现象, 除了

(A) 中美两国医学界对何为精神忧郁症的解释不同。

(B) 考虑到实际收入, 和中国相比, 美国的医疗费用并不过于昂贵。

(C) 和中国相比, 美国的生活环境较不利于人的精神健康。

(D) 和中国人相比, 美国人有较高的自我保健意识。

35. 拥挤的居住条件所导致的市民健康状况明显下降, 是清城面临的重大问题。因为清城和广川两个城市的面积和人口相当, 所以, 清城所面临的上述问题必定会在广川出现。以下哪项最为恰当地指出了上述论证的漏洞?

(A) 不当地预设: 拥挤的居住条件是导致市民健康状况下降的唯一原因。

(B) 未能准确区分人口数量和人口密度这两个概念。

(C) 忽略了相同的人口密度可以有不同的居住条件。

(D) 未能恰当地选择第三个比较对象以增强结论的说服力。

36. 面试是招聘的一个不可取代的环节, 因为通过面试, 可以了解应聘者的个性。那些个性不适合的应聘者将被淘汰。

以下哪项是上述论证最可能假设的?

(A) 应聘者的个性很难通过招聘的其他环节展示。

(B) 个性是确定录用应聘者的最主要因素。

(C) 只有经验丰富的招聘者才能通过面试准确把握应聘者的个性。

(D) 在招聘各环节中, 面试比其它环节更重要。

37. 为了减少汽车追尾事故, 有些国家的法律规定, 汽车在白天行使时也必须打开尾灯。一般地说, 一个国家的地理位置离赤道越远, 其白天的能见度越差; 而白天的能见度越差, 实施上述法律的效果越显著。事实上, 目前世界上实施上述法律的国家都比中国离赤道远。

上述断定最能支持以下哪项相关结论?

(A) 中国离赤道较近, 没有必要制定和实施上述法律。

(B) 在实施上述法律的国家中, 能见度差是造成白天汽车追尾的最主要原因。

(C) 一般地说, 和目前已实施上述法律的国家相比, 如果在中国实施上述法律, 其效果将较不显著。

(D) 中国白天汽车追尾事故在交通事故中的比例，高于已实施上述法律的国家。

38. 母鼠对它所生的鼠崽立即显示出母性行为。而一只刚生产后的从未接触鼠崽的母鼠，在一个封闭的地方开始接触一只非己所生的鼠崽，七天后，这只母鼠显示出明显的母性行为。如果破坏这只母鼠的嗅觉，或者摘除鼠崽产生气味的腺体，上述七天的时间将大大缩短。

上述断定最能推出以下哪项结论？

- (A) 不同母鼠所生的鼠崽发出不同的气味。
  - (B) 母鼠的嗅觉是老鼠繁衍的障碍。
  - (C) 非己所生的鼠崽的气味是母鼠对其产生母性行为的障碍。
  - (D) 公鼠对鼠崽的气味没有反应。
39. 甲：我坚信有一种药可能治疗所有的疾病。  
乙：你所说的药是不可能存在的。  
以下哪项，最为准确的表达了乙的观点？
- (A) 所有药都必然有其无法治疗的病。
  - (B) 所有药都可能有其无法治疗的病。
  - (C) 一定存在有些病，任何药都对其没有疗效。
  - (D) 有些药必然有其无法治疗的病。
40. 小东在玩“勇士大战”游戏，进入第二关时，界面出现四个选项。第一个是“选择任意选项都需要支付游戏币”，第二个选项是“选择本项后可以得到额外游戏奖励”，第三个选项是“选择本项游戏后游戏不会进行下去”，第四个选项是“选择某个选项不需要支付游戏币”。
- 如果四个选项中的陈述只有一句为真，则以下哪项一定为真？
- (A) 选择任意选项都需要支付游戏币。
  - (B) 选择任意选项都不需要支付游戏币。
  - (C) 选择任意选项都不能得到额外游戏奖励。
  - (D) 选择第三个选项后游戏能继续进行下去。
- 41—45 小题基于以下共同题干：
- 在某食堂的菜谱安排中，可供选择的主食包括：水饺、米饭和馒头。早、中、晚餐主食的设置必须符合以下条件：
- (1) 如果早餐安排水饺，则午餐安排馒头。
  - (2) 只有早餐安排米饭，午餐才能安排米饭。
  - (3) 除非晚餐既无水饺又无馒头，否则午餐安排水饺。
  - (4) 每餐只有一种主食。
41. 以下哪项列出的可能的安排方案之一？
- (A) 早餐：米饭；午餐：米饭；晚餐：馒头。
  - (B) 早餐：水饺；午餐：米饭；晚餐：米饭。
  - (C) 早餐：水饺；午餐：水饺；晚餐：米饭。
  - (D) 早餐：馒头；午餐：水饺；晚餐：米饭。
42. 如果早餐安排馒头，以下哪一项陈述不可能真？
- (A) 晚餐安排米饭。
  - (B) 午餐安排水饺。
  - (C) 午餐安排米饭。
  - (D) 晚餐安排水饺。



43. 以下哪一项陈述为真，能确定唯一的安排方案？  
    (A) 早餐安排水饺。    (B) 午餐安排水饺。  
    (C) 午餐安排馒头。    (D) 晚餐安排馒头。
44. 如果不选用米饭，恰好能有几种可行的安排方案？  
    (A) 一。    (B) 二。    (C) 三。    (D) 四。
45. 如果某日三餐的主食各不相同，以下哪一项陈述可能为真？  
    (A) 早餐安排米饭并且午餐安排馒头。  
    (B) 早餐安排米饭并且午餐安排水饺。  
    (C) 早餐安排水饺并且晚餐安排馒头。  
    (D) 早餐安排馒头并且晚餐安排水饺。
- 46—50 小题基于以下共同题干：  
    某水果超市由左至右的 7 个货架上要摆放 7 种水果，它们是：苹果、橘子、香蕉、桃、李子、杏和西瓜。每种水果要么是特价销售，要么是原价销售，每个货架上只摆放一种水果。已知的信息如下：  
    (1) 任何相邻的两种水果不全是特价销售的。  
    (2) 杏在橘子和桃左侧的某一货架上。  
    (3) 在杏左侧的水果中，恰好有两种是特价销售的。  
    (4) 苹果在左起第六个货架上。  
    (5) 西瓜在香蕉左侧的某一个货架上。
46. 以下哪项列出的，可能是水果从左到右的摆放顺序？  
    (A) 西瓜、香蕉、橘子、杏、桃、苹果、李子  
    (B) 李子、杏、西瓜、香蕉、桃、苹果、橘子  
    (C) 西瓜、桃、香蕉、橘子、杏、苹果、李子  
    (D) 李子、西瓜、香蕉、杏、桃、苹果、橘子
47. 以下哪项列出的水果不可能都是特价销售的？  
    (A) 苹果和李子    (B) 桃和苹果    (C) 香蕉和桃    (D) 桃和橘子
48. 如果李子在左起第一个货架上，以下哪种水果一定是原价销售的？  
    (A) 西瓜    (B) 橘子    (C) 苹果    (D) 桃
49. 如果恰好有三种水果的服装是原价销售的，以下哪种水果的一定是原价销售的？  
    (A) 桃    (B) 橘子    (C) 杏    (D) 西瓜
50. 以下哪项中列出的水果一定不会相邻摆放？  
    (A) 香蕉和杏    (B) 李子和杏    (C) 杏和桃    (D) 杏和西瓜

## 第四部分 外语运用能力测试（英语）

（50 题，每题 2 分，满分 100 分）

### Part One Vocabulary and Structure

**Directions:** *In this part there are ten incomplete sentences, each with four suggested answers. Choose the one that you think is the best answer. Mark your answer on the Answer Sheet by drawing with a pencil a short bar across the corresponding letter in the brackets.*

1. First published in 1927, the charts remain an \_\_\_\_\_ source for researchers.
  - A. intelligent
  - B. indispensable
  - C. inevitable
  - D. identical
2. Deserts and high mountains have always been a \_\_\_ to the movement of people from place to place.
  - A. jam
  - B. barrier
  - C. fence
  - D. prevention
3. She keeps a supply of candles in the house in case of power \_\_\_\_\_.
  - A. drop
  - B. failure
  - C. lack
  - D. absence
4. I was so \_\_\_\_\_ in today's history lesson. I didn't understand a thing.
  - A. confused
  - B. amused
  - C. neglected
  - D. amazed
5. To make things convenient for the people, the department is planning to set up some shops in the residential area.
  - A. flowing
  - B. drifting
  - C. mobile
  - D. unstable
6. The \_\_\_\_\_ at the military academy is so rigid that students can hardly bear it.
  - A. confinement
  - B. discipline
  - C. convention
  - D. principle

7. Smoking and drinking are regarded as \_\_\_\_\_ in some countries because they do no good to health.
- A. vices
  - B. habits
  - C. customs
  - D. copies
8. The news has not yet been officially \_\_\_\_\_ by the government.
- A. struck
  - B. confirmed
  - C. founded
  - D. pointed
9. We may be able to \_\_\_\_\_ you in some way if you can not finish your work on time.
- A. resist
  - B. insist
  - C. assist
  - D. disease
10. She always dreamed of an \_\_\_\_\_ job even when she was ten years old.
- A. ideal
  - B. indirect
  - C. absolute
  - D. aid

## Part Two Reading Comprehension

**Directions:** *In this part there are four passages followed by questions or unfinished statements, each with four suggested answers. Choose the one that you think is the best answer. Mark your answer on the Answer Sheet by drawing with a pencil a short bar across the corresponding letter in the brackets.*

**Questions 11-15 are based on the following passage:**

The classroom is a man's world, where boys get two-thirds of the teachers' attention -- even when they are in a minority--taunt (辱骂) the girls without punishment, and receive praise for sloppy work that would not be tolerated from girls. They are accustomed to being teachers' pets, and if girls get anything like equal treatment, they will protest eagerly and even wreck lessons.

These claims are made in a book *out this week*, written by Dale Spender, a lecturer at the London University Institute of Education. She argues that discrimination against girls is so deeply in co-educational schools that single-sex classes are the only answer.

Her case is based on tape-recordings of her own and other teachers' lessons. Many of them, like Spender, had deliberately set out to give girls a fair chance. "Sometimes," says Spender, "I have even thought I have gone too far and have spent more time with the girls

than the boys.” The tapes proved otherwise. In 10 taped lessons (in secondary school and college), Spender never gave the girls more than 42 per cent of her attention (the average was 38 percent) and never gave the boys less than 58 percent. There were similar results for other teachers, both male and female.

In other words, when teachers give girls more than a third of their time, they feel that they are cheating the boys of their rightful share. And so do the boys themselves. “She always asks the girls all the questions,” said one boy in a classroom where 34 per cent of the teachers’ time was allocated to girls. “She doesn’t like boys, and just listens to the girls.” said a boy in another class, where his sex got 63 per cent of teacher attention. Boys regarded two-thirds of the teacher’s time as a fair deal — and when they got less they caused trouble in class and even complained to higher authority. “It’s important to keep their attention,” said one teacher, “Otherwise, they play you up something awful.”

Spender concludes that, in mixed classes, if the girls are as boisterous and pushy as the boys, they are considered “unladylike”, if they are docile and quiet, they are ignored.

11. If boys are better treated in class, \_\_\_\_ would be better.
  - A. single-sex classes and co-educational classes
  - B. co-educational classes
  - C. single-sex classes
  - D. None of the above
12. Dale Spender obtained the evidence for her claims by \_\_\_\_
  - A. her own lessons in secondary school and college
  - B. the other teachers’ tape-recordings
  - C. both male and female teachers
  - D. tape-recordings of her own and other teachers’ lessons
13. What are the boy’s reactions when girls are given more attention?
  - A. They will keep the teachers’ attention again.
  - B. They will make some trouble and complain to the headmaster.
  - C. They will play up the teacher something awful.
  - D. They will feel they are cheated by teachers.
14. The word “boisterous” in the last paragraph probably means \_\_\_\_\_.
  - A. rough
  - B. brave
  - C. troublesome
  - D. emotional
15. The best title for this passage would be \_\_\_\_\_.
  - A. boys are teachers’ pets
  - B. boys do better in co-educational classes
  - C. single-sex classes are better than co-educational classes
  - D. girls do better than boys

**Questions 16-20 are based on the following passage:**

Sign has become a scientific hot button. Only in the past 20 years have specialists in language study realized that signed languages are unique -- a speech of the hand. They offer a new way to probe how the brain generates and understands language, and throw new light on an old scientific controversy: whether language, complete with grammar, is something that we are born with, or whether it is a learned behavior. The current interest in sign language has roots in the pioneering work of one rebel teacher at Gallaudet University in Washington, D.C., the world's only liberal arts university for deaf people.

When Bill Stokoe went to Gallaudet to teach English, the school enrolled him in a course in signing. But Stokoe noticed something odd: among themselves, students signed differently from his classroom teacher. Stokoe had been taught a sort of gestural code, each movement of the hands representing a word in English. At the time, American Sign Language (ASL) was thought to be no more than a form of pidgin English (混杂英语). But Stokoe believed the "hand talk" his students used looked richer. He wondered: Might deaf people actually have a genuine language? And could that language be unlike any other on Earth? It was 1955, when even deaf people dismissed their signing as "substandard". Stokoe's idea was academic heresy (异端邪说).

It is 37 years later. Stokoe -- now devoting his time to writing and editing books and journals and to producing video materials on ASL and the deaf culture - is having lunch at a café near the Gallaudet campus and explaining how he started a revolution. For decades educators fought his idea that signed languages are natural languages like English, French and Japanese. They assumed language must be based on speech, the modulation (调节) of sound. But sign language is based on the movement of hands, the modulation of space. "What I said," Stokoe explains, "is that language is not mouth stuff- it's brain stuff."

16. The study of sign language is thought to be\_\_\_\_\_ .
- A. an approach to simplifying the grammatical structure of a language
  - B. an attempt to clarify misunderstanding about the origin of language
  - C. a challenge to traditional views on the nature of language
  - D. a new way to look at the learning of language
17. The present growing interest in sign language was stimulated by\_\_\_\_\_.
- A. a leading specialist in the study of liberal arts
  - B. an English teacher in a university for the deaf
  - C. Some senior experts in American Sign Language
  - D. a famous Scholar in the study of the human brain
18. According to Stokoe, sign language is \_\_\_\_\_.
- A. an international language
  - B. a substandard language
  - C. an artificial language
  - D. a genuine language

19. Most educators objected to Stokoe's idea because they thought\_\_\_\_\_.
- A. a language should be easy to use and understand
  - B. sign language was too artificial to be widely accepted
  - C. a language could only exist in the form of speech sounds
  - D. sign language was not extensively used even by deaf people
20. Stokoe's argument is based on his belief that\_\_\_\_\_ .
- A. language is a product of the brain
  - B. language is a system of meaningful codes
  - C. sign language is derived from natural language
  - D. sign language is as efficient as any other language

***Questions 21-25 are based on the following passage:***

Every year 100 million holiday-makers are drawn to the Mediterranean. With one third of the world's tourist trade, it is the most popular of all the holiday destinations; it is also the most polluted. It has only 1 per cent of the world's sea surface, but carries more than half the oil and tar floating on the waters. Thousands of factories pour their poison into the Mediterranean, and almost every city, town and village on the coast sends its sewage, untreated, into the sea.

The result is that the Mediterranean, which nurtured so many civilizations, is gravely ill—the first of the seas to fall victim to the abilities and attitudes that evolved around it. And the pollution does not merely keep back life of the sea—it threatens the people who inhabit and visit its shores.

The mournful form of disease is caused by sewage. Eighty-five per cent of the waste from the Mediterranean's 120 coastal cities is pushed out in to the waters where their people and visitors bathe and fish. What is more, most cities just drop it in straight off the beach; rare indeed are the places like Cannes and Tel Aviv which pipe it even half a mile offshore.

Not surprisingly, vast areas of the shallows are awash with bacteria and it doesn't take long for these to reach people. Professor William Brumfitt of the Royal Free Hospital once calculated that anyone who goes for a swim in the Mediterranean has a one in seven chance of getting some sort of disease. Other scientists say this is an overestimate; but almost all of them agree that bathers are at risk.

Industry adds its own poisons. Factories cluster round the coastline, and even the most modern rarely has proper waste treatment plant. They do as much damage to the sea as sewage. But the good news is that the countries of the Mediterranean have been coming together to work out how to save their common sea.

21. The causes of the Mediterranean's pollution is \_\_\_\_.
- A. the oil and tar floating on the water
  - B. many factories put their poison into the sea
  - C. untreated sewage from the factories and coastal cities

- D. there are some sorts of diseases in the sea
22. Which of following consequence of a polluted sea is not true according to the passage?
- A. Bring up so many civilizations.
  - B. Various diseases in the sea.
  - C. It threatens the inhabitants and travelers.
  - D. One in seven chance of getting some sort of disease swimming in the sea.
23. The word "sewage" refers to \_\_\_\_.
- A. poison
  - B. waste
  - C. liquid material
  - D. solid material
24. Why does industry do much damage to the sea?
- A. Because most factories have proper waste treatment plants.
  - B. Because many factories have not proper waste treatment plants even the most modern one.
  - C. Because just the modern factory has a waste treatment plant.
  - D. Because neither ordinary factories nor most modern ones have proper waste treatment plants.
25. What is the passage mainly about?
- A. Save the world.
  - B. How the people live in the Mediterranean sea.
  - C. How the industry dangers the sea.
  - D. Beware the dirty sea.

***Questions 26-30 are based on the following passage:***

Henry Ford, the famous U.S. inventor and car manufacturer, once said, "The business of America is business." By this he meant that the U.S. way of life is based on the values of the business world.

Few would argue with Ford's statement. A brief glimpse at a daily newspaper vividly shows how much people in the United States think about business. For example, nearly every newspaper has a business section, in which the deals and projects, finances and management, stock prices and labor problems of corporations are reported daily. In addition, business news can appear in every other section. Most national news has an important financial aspect to it. Welfare, foreign aid, the federal budget, and the policies of the Federal Reserve Bank are all heavily affected by business. Moreover, business news appears in some of the unlikeliest places. The world of arts and entertainment is often referred to as "the entertainment industry" or "show business."

The positive side of Henry Ford's statement can be seen in the prosperity that business has brought to U.S. life. One of the most important reasons so many people from all over the

world come to live in the United States is the dream of a better job. Jobs are produced in abundance (大量地) because the U.S. economic system is driven by competition. People believe that this system creates more wealth, more jobs, and a materially better way of life.

The negative side of Henry Ford's statement, however, can be seen when the word business is taken to mean big business. And the term big business -- referring to the biggest companies, is seen in opposition to labor. Throughout U.S. history working people have had to fight hard for higher wages, better working conditions, and the fight to form unions. Today, many of the old labor disputes are over, but there is still some employee anxiety. Downsizing ---- the laying off of thousands of workers to keep expenses low and profits high -- creates feelings of insecurity for many.

26. The United States is a typical country
- A. which encourages free trade at home and abroad
  - B. where people's chief concern is how to make money
  - C. where all businesses are managed scientifically
  - D. which normally works according to the federal budget
27. The influence of business in the U.S. is evidenced by the fact that
- A. most newspapers are run by big businesses
  - B. even public organizations concentrate on working for profits
  - C. Americans of all professions know how to do business
  - D. even arts and entertainment are regarded as business
28. According to the passage, immigrants choose to settle in the U.S., dreaming that
- A. they can start profitable businesses there
  - B. they can be more competitive in business
  - C. they will make a fortune overnight there
  - D. they will find better chances of employment
29. Henry Ford's statement can be taken negatively because
- A. working people are discouraged to fight for their fights
  - B. there are many industries controlled by a few big capitalists
  - C. there is a conflicting relationship between big corporations and labor
  - D. public services are not run by the federal government
30. A company's efforts to keep expenses low and profits high may result in
- A. reduction in the number of employees
  - B. improvement of working conditions
  - C. fewer disputes between labor and management
  - D. a rise in workers' wages



### Part Three Cloze

**Directions:** For each blank in the following passage, choose the best answer from the choices given below. Mark your answer on the Answer Sheet by drawing with a pencil a short bar across the corresponding letter in the brackets.

The space age officially began on October 4, 1957, 31 the Soviet Union launched the modest 185 pound Sputnik I , the first artificial satellite to orbit the earth. The following month, Russians successfully launched the 1100 pound Sputnik II , 32 carried into space the globe, a female dog named Laika, who suffocated(窒息) on the sixth day of the 33 because of a failure in the internal temperature of the craft. But the satellite itself orbited the earth for 162 days and 34 on reentering the earth's atmosphere.

The United States, playing second fiddle(小提琴) to its superpower 35, orbited its first satellite, Explorer 1, on January 31, 1958 . It was a lightweight, 18 pound craft, carrying not animals but sensitive instruments to study the 36 bands of energy in space known as the Van Allen radiation belts. Within 37 fifteen years man had gone to the moon, searching beneath its dry and dusty soil for 38 of life (there were not), and begun probing more distant 39 of the solar system? One physicist, Werner Von Braun, played a crucial role in this odyssey(史诗), especially in 40 the bold scheme for the 1969 landing of three Americans on the moon.

- |                   |             |               |              |
|-------------------|-------------|---------------|--------------|
| 31. A. and        | B. when     | C. then       | D. before    |
| 32. A. which      | B. in which | C. that       | D. it        |
| 33. A. course     | B. flight   | C. orbiting   | D. passage   |
| 34. A. crashed    | B. hit      | C. damaged    | D. burned up |
| 35. A. rival      | B. partner  | C. enemy      | D. friend    |
| 36. A. intense    | B. sharp    | C. passionate | D. violent   |
| 37. A. following  | B. another  | C. the next   | D. the past  |
| 38. A. indication | B. sign     | C. symbol     | D. reference |
| 39. A. universe   | B. sphere   | C. realms     | D. space     |
| 40. A. inventing  | B. planning | C. devising   | D. plotting  |

### Part Four Dialogue Completion

**Directions:** There are ten short incomplete dialogues between two speakers, each followed by four choices marked A, B, C, and D. Choose the answer that appropriately suits the conversational content and best completes the dialogue. Mark your answer on the Answer Sheet by drawing with a pencil a short bar across the corresponding letter in the brackets.

41. Colleague A: Just call me dad. My wife and I had our first baby last month.

Colleague B: \_\_\_\_\_

- A. What a surprise!
- B. Really? Congratulations.
- C. Dad? What is wrong with you and your wife?

- D. You are kidding me.
42. Connie: It's late. I had to say goodbye.  
Mrs. White: \_\_\_\_\_  
A. Why do you want to go now?  
B. I'd like to say goodbye, too.  
C. That's all right.  
D. Hope you had a good time. See you tomorrow.
43. Customer: Excuse me, sir.  
Clerk: \_\_\_\_\_  
Customer: I'd like to cash a check. Would you please tell me which window should I go?  
Clerk: You can do it at window 5.  
A. What? Can I help you?  
B. Yes. May I help you?  
C. It is all right.  
A. I never matters.
44. Tom: Would you like to do me a favor and pass me the dictionary?  
Helen: Of course. \_\_\_\_\_  
A. Give it to you.  
B. Get it please.  
C. Here you are.  
D. Take it now.
45. Student A: I feel sick.  
Student B: \_\_\_\_\_  
Student A: I'm not sure, but I have got a bad headache.  
A. I'm sorry to hear that.  
B. How are you feeling now?  
C. Do you have a temperature?  
D. How long have you been sick?
46. Man: Would you mind I open the window for the fresh air?  
Woman: \_\_\_\_\_  
A. Yes, please.  
B. No. please.  
C. Yes. Go ahead.  
D. No. I do.
47. A: Can I do anything for you?  
B: \_\_\_\_\_  
A. No. You can't do anything for me.  
B. Never mind.  
C. It's my pleasure.

D. No, it's alright. I can manage myself.

48. Man: Marry, you are so beautiful.

Marry: \_\_\_\_\_.

A. Where?

B. Nonsense!

C. Thanks!

D. You too.

49. Desk Clerk: Good afternoon, Holiday Inn.

Customer: Hello, I'd like to book a double room for the nights of 23rd and 24th please.

Desk Clerk: \_\_\_\_\_

A. What's the matter?

B. What can I do for you?

C. Just a minute, please.

D. Can I help you?

50. Nick: I'm going to the concert with my girlfriend this evening. Would you like to go with us?

David: \_\_\_\_\_

A. You have one more ticket?

B. What is on?

C. What is acted?

D. What is in?